



T.C.
MİLLİ EĞİTİM BAKANLIĞI

A

PROJE İMAM HATİP ORTAOKULU
5.SINIF GİRİŞ SINAVI
(24 MAYIS 2019 - 09.00)

Adı-Soyadı :

Okulu :

Sınıf-No :

ALANLAR	SORU SAYISI	TOPLAM SORU SAYISI	SÜRE
1. TÜRKÇE.....	15 SORU	60	100 DAKİKA
2. MATEMATİK.....	15 SORU		
3. FEN BİLİMLERİ.....	15 SORU		
4. SOSYAL BİLGİLER..	5 SORU		
5. DİN KÜLTÜRÜ.....	5 SORU		
6. İNGİLİZCE.....	5 SORU		

SINAVDA UYULACAK KURALLAR

1. Sınav süresince gözetmenlerin uyarılarına dikkat ediniz.
2. Sınav süresince kitap, sözlük veya elektronik araçları yanınızda bulundurmuyunuz.
3. Cevap kâğıdınızdaki bilgilerin doğruluğunu kontrol ediniz.
4. Kitapçık üzerindeki ad-soyad, okul ve sınıf-no bilgilerinizi yazmayı unutmayınız.
5. Cevap kâğıdınız üzerinde bulunan kitapçık türünü doğru kodladığınızdan emin olunuz.
6. TC Kimlik numaranızı cevap kâğıdı üzerindeki alana dikkatlice kodlayınız.
7. Cevap kâğıdı üzerinde kurşun kalemle işaretleme yapınız. Değiştirmek istediğiniz cevabınızı yumuşak silgi ile iz bırakmadan siliniz. Cevap kâğıdınızı buruşturmayınız ve katlamayınız.
8. Soru kitapçığınızı sınav başlamadan kontrol ediniz. Eksik sayfa varsa değiştirilmesini isteyiniz.
9. Sınavda başkalarıyla konuşmayınız, kopya çekmeyiniz. Bu gibi durumlarda sınavınız geçersiz sayılacaktır.
10. Yanlış cevaplarınız dikkate alınmadan sadece doğru cevaplarınız üzerinden puanlama yapılabilmektedir. Yanlış cevaplar doğru cevapları götürmemektedir.
11. Sınav bitiminde cevap kâğıdınızı teslim etmeyi unutmayınız. Her sorunun bir doğru cevabı bulunmaktadır.

BAŞLAYINIZ DENİLMEDEN KİTAPÇIĞINIZI AÇMAYINIZ.

SONUÇLAR VE CEVAP ANAHTARI tatvaniho.meb.k12.tr sayfasında yayınlanacaktır.

TÜRKÇE TESTİ

1.)

1. tek

2. adımla

3. başlar

4. bir

5. uzun

6. yolculuklar

Yukarıda karışık olarak verilmiş sözcüklerden anlamlı ve kurallı bir cümle oluşturulduğunda sıralama nasıl olmalıdır?

A) 5-6-3-4-1-2

B) 4-2-1-5-6-3

C) 5-6-1-4-2-3

D) 4-5-6-2-1-3

2.) “İlkokulu Bitlis’te okuyan Hasan’ın kardeşi Halil de bu okuldan mezundur.”

Yukarıdaki cümleden aşağıdaki yargılardan hangisi çıkarılmaz?

A)Halil ilkokulu bitirip ortaokula başlamıştır.

B)Hasan Bitlis’te yaşamıştır.

C)Halil ve Hasan ilkokulu aynı okulda okumuştur.

D)Halil ilkokuldan sonra okul okumamıştır.

3. 4-C sınıfında pazartesi’den başlayarak cuma gününe kadar Meryem, Melike, Metin, Mehtap ve Muhammed adlı beş öğrenci nöbet tutacaktır. Nöbet sırası isimlerin alfabetik sırasına göre olacaktır. Buna göre hangi şıkta öğrencilerin nöbet sırası doğru verilmiştir?

	Pazartesi	Salı	Çarşamba	Perşembe	Cuma
A)	Melike	Mehtap	Metin	Meryem	Muhammed
B)	Mehtap	Melike	Meryem	Muhammed	Metin
C)	Mehtap	Melike	Metin	Meryem	Muhammed
D)	Mehtap	Melike	Meryem	Metin	Muhammed

4.) Akıllı İşaretler ve Anlamları



Genel İzleyici Kitleleri



Olumsuz Örnek

Oluşturabilecek Davranışlar



Şiddet ve Korku



7+ Yaş ve Üzeri


Ayşe ailesiyle birlikte bir film izleyecektir. Filmi izlerken televizyon işaretlerine dikkat ederek filmi izlemesi gerekmektedir. Kendi yaş grubuna uygun olan, olumsuz örnek oluşturmayan ve içinde şiddet ve korku barındırmayan filmleri izleyecektir. Ayşe saat 21.30’ da uyuyacaktır.

Ayşe filmi saat 20.00’de izlemeye başladığına göre Ayşe’nin izlediği filmin saati ve işareti hangi şıkta doğru verilmiştir.

	Akıllı İşaretler	Filmin Süresi
A		95 dk
B		80 dk
C		89 dk
D		100dk

5.) Hikâye, gerçek ya da gerçekleşebilecek olayları yer, zaman ve şahıs belirterek anlatan yazı türüdür.

Yukarıdaki tanıma göre hikaye yazmak isteyen Elif hangi görselden faydalanamaz?



A)



B)



C)



D)

TÜRKÇE TESTİ

6.) Aşağıdaki cümlelerin hangisinde olay henüz gerçekleşmemiştir?

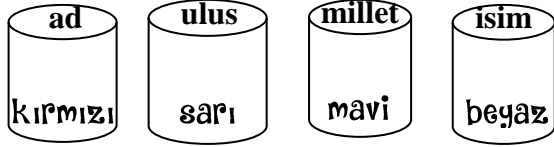
- A) Ayşe, ödevlerini dün yapmış.
- B) Bilgi yarışması yarın yapılacak.
- C) Babam salonda gazete okuyor.
- D) Ağaçların dallarını budadık.

7.) *Mavi ile sarı karıştırıldığında yeşil renk elde edilir.

*Sarı ile kırmızı karıştırıldığında turuncu oluşur.

*Mavi ile kırmızı karıştırıldığında mor oluşur.

*Beyaz ile kırmızı karıştırıldığında pembe oluşur.



Yukarıda birbiri ile eş anlamlı olan sözcüklerin olduğu boya kutuları karıştırılarak yeni renkler elde diledir.

Buna göre hangi renkler elde edilir?

- A) Yeşil-pembe
- B) Mor-pembe
- C) Yeşil-turuncu
- D) Turuncu-mor

8.)

*Beşir, Sultan Alparslan İmam Hatip Ortaokuluna yerleşmek için sınava çalışıyor.

*Beşir, Sultan Alparslan İmam Hatip Ortaokulunun yaptığı sınavı kazandı.

Yukarıdaki cümleler aşağıdakilerin hangisinde sebep sonuç ilişkisi kurulacak şekilde birleştirilmiştir?

- A) Beşir, Sultan Alparslan İmam Hatip Ortaokulunu yaptığı sınavı kazanmak için çalışıyor.
- B) Beşir, Sultan Alparslan İmam Hatip Ortaokulunun yaptığı sınavı kazanırsa okula yerleşir.
- C) Beşir, Sultan Alparslan İmam Hatip Ortaokulunun yaptığı sınava çalıştığı için okulu kazandı.
- D) Beşir, Sultan Alparslan İmam Hatip Ortaokulunun yaptığı sınava çalışmalıdır.

9.) Aşağıda büyük harflerin kullanımıyla ilgili bazı bilgiler verilmiştir.

*Özel adlar büyük harfle başlar.

*Akrabalık bildiren kelimeler büyük harfle başlamaz.

*Hayvanlara verilen adlar büyük harfle başlar.

*Yer adlarında ilk harften sonra gelen deniz, nehir, göl, dağ, boğaz vb. tür bildiren ikinci kelimeler büyük harfle başlar.

Aşağıdakilerin hangisinde yukarıda belirtilen kurallara uymamaktan kaynaklı bir yazım yanlışı olmuştur?

- A) Bugün Ahmet bize geldi.
- B) Kedim Minnoş çok hareketliydi.
- C) Van gölü Türkiye'nin en büyük gölüdür.
- D) Akşam Davut amcamlara gideceğiz.

! Soru işareti: Soru anlamı içeren cümlelerden sonra konur.

! Ünlem: Sevinc şaşırma gibi duyguları bildiren cümlelerden sonra konur

, Virgül: Art arda sıralanan kelimelerden sonra konur.

• Nokta: Cümlelerin sonuna konur

10. Aşağıdakilerin hangisinde yukarıda belirtilen noktalama işareti yanlış kullanılmıştır?

- A) Ay, elime iğne battı!
- B) Bugün yağmur yağdı.
- C) Manavdan elma, portakal ve muz aldım.
- D) Mavi mi mavi gözleri vardı?

Bazı ekler eklendikleri kelimelere yeni anlamlar katar.

11. Aşağıdakilerden hangisinde böyle bir kullanım yoktur?

- A) Kitaplıktan kitap alırken yere düştüm.
- B) Sabah simitçiden sıcak sıcak simitler aldım.
- C) Okul baya sessizdi.
- D) Kitapta ilgimi çeken şeyler vardı.

TÜRKÇE TESTİ

12.) Zaman en önemli değerimizdir. Bir kere boşa harcadıysak tekrar geri döndürmek ne mümkün!... İstedığınız kadar geri almaya çalışın. Geçen zaman bir daha geri gelmiyor. O yüzden zamanımızı iyi değerlendirmeliyiz. Boşa geçen her an, geri dönmeyecek bir kayıptır.

Yukarıdaki paragrafta anlatılmak istenen aşağıdakilerden hangisidir?

- A) Zamanın bize unutturdukları
- B) Zamanı iyi değerlendirmek
- C) Eski zamanlardaki yaşamlar
- D) Zaman ile ilgili şiirler

13. Bilimin Temeli Deneyler

Kâmil ve Hayri iyi iş çıkarmışlardı doğrusu. Şu mucitlik işinin tadını aldılar bir kere. Bundan sonra gelsin yeni denemeler. Hem zaten fen ve teknoloji derslerinde de işlerine çok yarayacak bu tecrübe.

Anlamlar:

- * Yeni bir buluş ortaya koyan kimse.
- * Deneyim
- * Denemek, işi sınamak
- * Bilimsel bir gerçeği göstermek, bir yasayı doğrulamak

Yukarıdaki paragrafta bazı kelimelerin anlamları verilmiştir. Anlamları verilen kelimeleri soldan sağa olacak şekilde bulmacadaki yerine yerleştiriniz.

	1	2	3	4	5	6	7
A							
B							
C							
D							

Buna göre bulmacanın dördüncü sütununa hangi harfler gelmelidir.

- A) MTDD
- B) TÜMY
- C) İREE
- D) CCNN

14.) Üçgen, yıldız ve kareden oluşan bir kodlama sisteminde a,k,t,ı harfleri aşağıdaki gibi gösterilmiştir.

a	▲ ■ ▲
k	▲ ■
t	■ ▲
ı	★ ▲ ★

Buna göre aşağıdaki dört harfli kelimelerden hangisi “ ▲ ■ ▲ ▲ ■ ★ ▲ ★ ■ ▲ ” şeklinde kodlanır?

- A) kıta
- B) atkı
- C) takı
- D) akıt

15.)

Doğayı seven kişi,
Hiç ona zarar verir mi?
Onu kirletip
Doğaya zarar verir mi?

Doğayı seven kişi
Onu kirletmeyen kişidir.
Doğayı seven kişi
Onu seven kişidir.

Yukarıdaki şiirin başlığı hangisi olabilir?

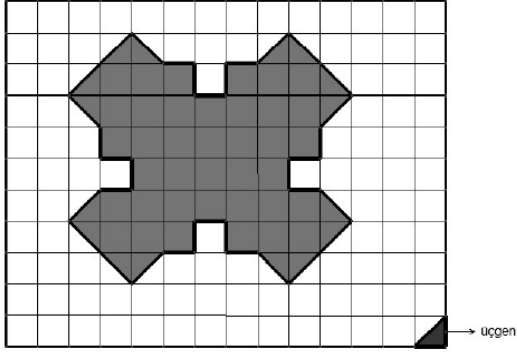
- A) Orman Sevgisi
- B) Doğa Sevgisi
- C) Yaşama Sevinci
- D) Bahara Sevgi



Türkçe testi bitmiştir. Lütfen diğer teste geçiniz.

MATEMATİK TESTİ

1.



Yukarıdaki taralı bölgeyi oluşturabilmek için alt köşedeki üçgenden kaç tane kullanılmalıdır?

- A) 54
- B) 70
- C) 92
- D) 35

2.

$$\begin{array}{r} 7AB3 \\ - C97D \\ \hline 4878 \end{array}$$

Yukarıda verilen çıkarma işlemine göre ABCD dört basamaklı sayısı aşağıdakilerden hangisidir?

- A) 8525
- B) 8025
- C) 1035
- D) 1535

3) 3 kg yoğurttan 1 şişe ayran yapılmaktadır. 1 şişe ayran 12 TL'ye satılmaktadır. 84 TL'lik ayran için kaç kg yoğurda ihtiyaç vardır?

- A) 36
- B) 10
- C) 40
- D) 21

4. Emine parasının $\frac{5}{18}$ ini Halime'ye, $\frac{11}{18}$ ini de Zeynep'e vermiştir.

Emine'nin başlangıçta 90 lirası olduğuna göre; Zeynep'e Halime'den kaç lira fazla vermiştir?

- A) 20
- B) 25
- C) 30
- D) 35

5. Kalanlı bir bölme işleminde bölen 13, bölüm 24 ise bölünen en fazla kaç olabilir?

- A) 326
- B) 319
- C) 324
- D) 313

6) Saat 10.00'da ders çalışmaya başlayan Ecem 35 dakika ders çalışıp 10 dakika mola veriyor. Ecem bu şekilde ders çalışmaya devam ederse üçüncü molayı saat kaçta verir?

- A) 12.05
- B) 11.25
- C) 12.20
- D) 12.35

MATEMATİK TESTİ

7)

4, 7, 0

Ela yukarıdaki rakamları, sadece birer kez kullanarak kaç tane üç basamaklı sayı yazabilir?

- A) 3 B) 4 C) 5 D) 7

8) Bir otobüste toplam 69 yolcu vardır. Durakta 3'ü erkek 15 yolcu indikten sonra otobüsteki kadın ve erkek yolcu sayısı eşit oluyor. Buna göre başlangıçta otobüste kaç kadın yolcu vardır?

- A) 30 B) 39 C) 42 D) 45

9) 2019 yılında 3 Ocak tarihi Perşembe gününe denk gelmektedir. Buna göre bu Ocak ayında kaç tane Salı günü vardır?

- A) 3 B) 4 C) 5 D) 6

10) Çevresi 24 cm olan bir karenin çevresi ile bir eşkenar üçgenin çevresi birbirine eşit olduğuna göre eşkenar üçgenin bir kenar uzunluğu ile karenin bir kenar uzunluğunun çarpımı kaçtır?

- A) 36 B) 48 C) 72 D) 84

11) 374 litre süt 40'ar litrelik şişelere geri kalanlar ise 7 litrelik şişelere konulacaktır. Toplam kaç tane şişe kullanılır?

- A) 15 B) 12 C) 11 D) 8

MATEMATİK TESTİ

12) 1'den 14'e kadar olan doğal sayılar tabloya aşağıdaki gibi yerleştirilmiştir.

BAŞLA	1	13	3
7	9	12	11
2	10	5	8
6	14	4	BİTİR

Tabloda sol üst köşedeki "BAŞLA" karesinden "BİTİR" karesine doğru gezinti yapılacaktır. Herhangi bir kareden yalnız bir kere geçilebilir. Karenin bir soluna bir sağına bir aşağıya ya da bir yukarıya hareket edilebilir. Karenin hepsini gezme zorunluluğu bulunmuyor. Verilen bilgilerden hareketle yapılacak gezintide;

- I. Elde edilebilecek en büyük toplam 129 dur.
II. Elde edilebilecek en küçük toplam 29 dur.
III. En büyük sayı elde etmek için gezilen yolda 13 ten sonra 3 e geçilir.

Bunlara göre hangisi ya da hangileri doğrudur?

- A) Yalnız I
B) II ve III
C) I, II, III
D) Yalnız III

13) 42 yaşında olan bir babanın 12, 8, 6 ve 4 yaşlarında 4 çocuğu vardır. Kaç yıl sonra çocukların yaşları toplamı, babanın o günkü yaşına eşit olur?

- A) 7 B) 6 C) 5 D) 4

14) Zeynep, Zehra ve Esmanur'un eşit miktarda paraları vardır. Zeynep parasının $\frac{7}{8}$ 'ini, Zehra $\frac{6}{8}$ 'i, Esmanur ise $\frac{5}{8}$ 'ini harcamıştır.

Buna göre aşağıdaki ifadelerden hangisi doğrudur?

- A) En çok parayı Zehra harcamıştır.
B) En az parayı Zeynep harcamıştır.
C) Esmanur, Zehra'dan daha az harcamıştır.
D) Zehra, Zeynep'ten daha fazla harcamıştır.

15) İsmail bir hikâye kitabını her gün 21 sayfa okuyarak bir haftada bitirebilecektir. Beşinci günün sonunda kitapta okunması gereken kaç sayfa kalmıştır?

- A) 72
B) 68
C) 42
D) 36



Matematik testi bitmiştir. Lütfen diğer teste geçiniz

FEN BİLİMLERİ TESTİ

1) Yer kabuğunun içinden çıkarılan ve ekonomik değeri olan kayalara denir.

Dünya' nın kendi etrafında dönmesi sonucunda oluşur.

Çok eski zamanlarda yaşamış olan canlıların kayalar içinde taşlaşmış olarak bulunan kalıntı ve izlerinedenir.

Yukarıdaki noktalı yerlere aşağıdakilerden hangisini yazamazız?

- A) mevsimler B) maden
C) gece gündüz D) fosil

2) Geçmişte ve günümüzde kullanılan ses kayıt teknolojileri ile ilgili olarak;

I. Geçmişte metal ya da plak üzerine sadece ses kaydı yapılırken günümüzde sesle birlikte görüntü kaydı da yapılmaktadır.

II. Günümüzde kullanılan ses kayıt ve dinleme araçları geçmişte kullanılan araçlara göre daha kullanışlı ve hafiftir.

III. Geçmişte sadece birkaç dakika ses kaydı yapılırken günümüzdeki araçlarla çok daha uzun süre ses ve görüntü kaydı yapılabilmektedir.

Yukarıda verilen ifadelerden hangileri doğrudur?

- A) I ve II B) I ve III
C) II ve III D) I, II ve III

3)




Görseldeki nesne pek çok kişinin evinde bulunabilmektedir. Çay demlendikten sonra çay yapraklarının bardağa çay ile dökülmesini engellemek için kullanılmaktadır.

Buna göre çay yaprağı ve çay karışımını aşağıdaki işlemlerden hangisi ile ayırabiliriz?

- A) Yüzdürme B) Eleme
C) Süzme D) Batırma

4) Aşağıdaki besinlerden hangisi hayvansal kaynaklı değildir?



5) Aşağıdakilerden hangisi yanlıştır?

- A) Elektrik enerjisi ütüde ışık enerjisine dönüşür.
B) Ampul, elektrik enerjisini ışık enerjisine dönüştürür.
C) Elektrik enerjisini kesmek veya devam ettirmek için elektrik anahtarı kullanılır.
D) Prizden elektrik enerjisini almaya yarayan araç fiştir.

FEN BİLİMLERİ TESTİ

6)

- I. Mevsimler arası sıcaklık farkı meydana gelir
II. Gece ve gündüz uzunlukları değişir.
III. Gün içerisindeki gölge boyu değişir.

Yukarıda verilen olaylardan, Dünya'nın Güneş etrafında dolanma hareketi sonucu olanlara "D", olmayanlara "Y" yazarsak aşağıdakilerden hangisi doğru olur?

A)	B)	C)	D)
D	D	Y	D
D	D	D	Y
D	Y	Y	D

7)

BESİNLER GÖREVLERİNE GÖRE

ENERJİ VERİCİ	1. Karbonhidrat
	2.
YAPICI – ONARICI	1.
DÜZENLEYİCİ	1. Vitaminler
	2. Mineraller
	3.

Yukarıdaki tabloda 1, 2 ve 3 ile gösterilen yerlere öncelikli görevlerine göre aşağıdaki besin içeriklerinden hangisi gelebilir?

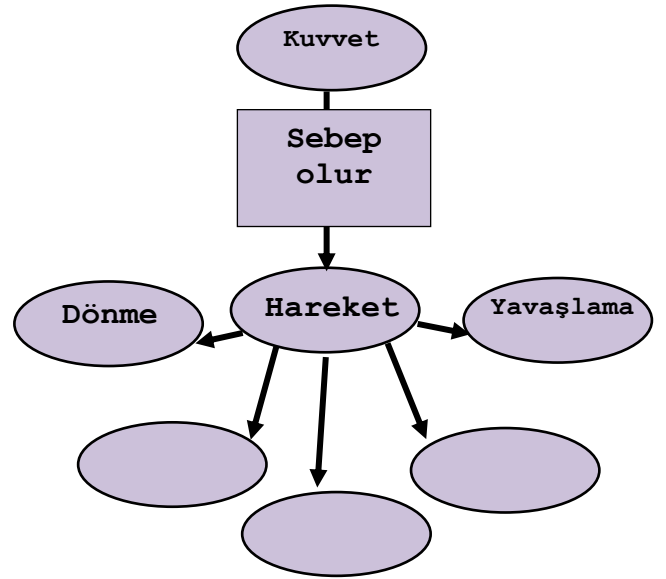
1	2	3
A) Protein	Yağ	Su
B) Protein	Su	Yağ
C) Yağ	Protein	Su
D) Su	Karbonhidrat	Yağ



8)

Yukarıdaki ampul lamba ve tasarruflu ampul olarak nitelendirilen bir diğer lamba çeşidine ait görseller yer almaktadır. Buna göre aşağıdakilerden hangisi bu iki ampul çeşidinin ortak özelliği olarak söylenebilir.

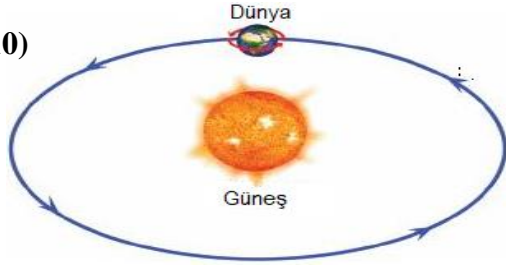
- A) Ortalama kullanım süresi aynıdır.
B) Çevrelerine ısı yayarlar.
C) Elektrik enerjisi ile çalışırlar.
D) Enerji harcama miktarları aynı olduğu için ekonomiktirler.



9) Verilen kavram haritasında boş bırakılan yerlere aşağıdakilerden hangisi yazılamaz?

- A. Sallanma B. Durma
C. Yön değiştirme D. Hızlanma

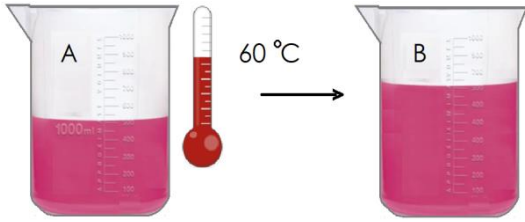
10)



Aşağıdakilerden hangisi ülkemizdeki yerel saat farkının nedenidir ?

- A) Dünya'nın Güneş etrafında dolanması.
- B) Yurdumuzun üç tarafının denizlerle çevrili olması.
- C) Türkiye'nin kuzey yarı kürede yer alması.
- D) Dünya'nın kendi eksenini etrafında dönmesi

11)



A kabındaki suyun sıcaklığı termometre ile gösterilmiştir.

A kabından B kabına su döküldüğünde, B kabındaki suyun sıcaklığının arttığı görülmüştür.

Buna göre B kabının, A kabından su boşaltılmadan önceki sıcaklığı kaç derece olabilir?

- A) 50
- B) 60
- C) 70
- D) 80

12)

- I. Fabrika dumanları
- II. Parfümler
- III. Atık piller
- IV. Deterjanlar

Yukarıdakilerden hangisi ya da hangileri havayı kirletir?

- A) I ve II
- B) I, II, ve III
- C) II ve IV
- D) I, II, III, IV

13)

1.		a.	Anahtar
2.		b.	Ampul
3.		c.	Duy

Yukarıda verilen devre elemanları ve isimleri hangi seçenekte doğru eşleştirilmiştir?

- A) 1-b, 2-a, 3-c
- B) 1-b, 2-c, 3-a
- C) 1-a, 2-c, 3-b
- D) 1-c, 2-a, 3-b

14) Tenis raketine çarpan top kalkışa geçen uçak.....hareketi yapar



Yukarıdaki cümlede boş bırakılan yerlere sırasıyla hangileri yazılmalıdır.

- A) şekil değiştirme yavaşlama
- B) yön değiştirme hızlanma
- C) yön değiştirme yavaşlama
- D) durma hızlanma

15) Işık kirliliğinin doğal hayata birçok olumsuz etkisi vardır

Yukarıdaki ifadeye göre aşağıdakilerden hangisi ışık kirliliğinin doğal hayata olan olumsuz etkilerinden biri değildir?

- A) Göçmen kuşların düşmesi
- B) Mercanların beyazlaması
- C) Gökbilimcilerin yıldızları izleyememesi
- D) Deniz kaplumbağalarının yolunu kaybedip denize ulaşamaması



SOSYAL BİLİMLER TESTİ

1) Kurtuluş Savaşı Güney cephesi düşünüldüğünde bazı şehirler ile bu şehirlerin düşman işgalinden kurtarılmasına öncülük eden kahramanları bulunmaktadır.

Aşağıdaki hangi seçenekte şehir ve kahraman eşleştirmesi doğru yapılmıştır?

Antep / Urfa / Maras

- A) Sütçü İmam / Ali Saip Bey / Şahin Bey
B) Ali Saip Bey / Sütçü İmam / Şahin Bey
C) Şahin Bey / Ali Saip Bey / Sütçü İmam
D) Sütçü İmam / Şahin Bey / Ali Saip Bey

2) İyi arkadaş olan Ali ile Ayşe sınıflarındaki fiziki haritayı incelemiş ve yaşadıkları yerin koyu kahverengi ile gösterildiğini görmüşlerdir. Bu konuyu merak etmişler ve hemen Sosyal Bilgiler öğretmenleri **Etem YİĞİT**'in yanına giderek yaşadıkları ilin neden koyu kahverengi ile gösterildiğini sormuşlardır.

Anlatılanlardan yola çıkarak Ali ve Ayşe'ye öğretmenleri aşağıdaki hangi cevabı vermiştir?

- A) Yaşadığımız yerde ormanlık alanlar az olduğu için
B) Yaşadığımız yerde dağlık alan ve yükselti fazla olduğu için
C) Yaşadığımız yerde sık sık deprem afeti görüldüğü için
D) Yaşadığımız yerde çok fazla tarım ve hayvancılık yapıldığı için

3) Bitlis' de yaşayan 2 yaşındaki Utku Ege' yi annesi ve babası hafta sonu Tatvan'a getirmişlerdir. Ailecek sabah kahvaltısı yapmışlar ve ardından sahilde yürümeye başlamışlardır. Utku Ege Feribot İşletmelerinin tam yanındayken hayatında ilk kez bir feribot görmüştür. Annesinin elini bırakarak feribota doğru koşmaya başlamış ve yüzünü Güneş' in doğduğu yöne dönerek sağ kolunu kaldırmıştır.

Utku Ege' nin havaya kaldırmış olduğu kolu aşağıdaki hangi yönü göstermektedir?

- A) Batı
B) Doğu
C) Kuzey
D) Güney

4) Tatvan Sultan Alparslan İmam Hatip Ortaokulu öğrencileri ve Sosyal Bilgiler öğretmenleri TÜBİTAK kapsamında bir proje geliştirmişlerdir. Bu projeye göre okullarının yanında bulunan askeri alandan bir karga yakalamışlar ve bu kargaya kendi okullarındaki 3 boyutlu yazıcıdan üretmiş oldukları içerisinde bir kamera ve GPS bulunan bir aparat takmışlardır. Kargayı her gün bilgisayar üzerinden takip etmişler ve karganın 1 hafta boyunca uçtuğu bölgelerin kabataslak çizimini oluşturmuşlardır.

Yukarıda anlatılanlara bakıldığında TÜBİTAK projesi kapsamında çalışan öğrenciler karganın uçtuğu yerlerin kabataslak çizimini yaparak aşağıdakilerden hangisini yapmışlardır?

- A) Grafik
B) Kroki
C) Harita
D) Plan

5) Tatvan Sultan Alparslan İmam Hatip Ortaokulu Sosyal Bilgiler Öğretmeni Erkan hoca ve eşi önümüzdeki yaz tatilinde Karadeniz turuna çıkmayı planlamaktadırlar. Erkan hocanın kendi gibi Sosyal Bilgiler öğretmeni olan eşi tur programına bakmış ve tur kapsamında Sarp Sınır Kapısı'ndan geçilerek'a gidileceğini ve burada bu ülkenin en önemli kenti olan Batum ve Tiflis'in gezileceğini öğrenmiş ve bu duruma çok sevinmiştir.

Ülkemizin komşuları düşünüldüğünde bu tur kapsamında gidilecek olan ülke aşağıdakilerden hangisidir?

- A) Azerbaycan
- B) Bulgaristan
- C) Gürcistan
- D) Yunanistan

İNGİLİZCE TESTİ

Aşağıdaki sorularda diyaloglarda boş bırakılan yere en uygun ifadeyi işaretleyiniz.

1)

A:

B: Yes, please. Thank you.

- A) Do you like orange juice?
- B) Do you have an egg for breakfast?
- C) Can you make a sandwich?
- D) Would you like some tea?

2) A: It's snowy. Can I borrow your gloves?

B: Sorry,

- A) here you are
- B) of course
- C) they're broken
- D) I need them

3)



- A) I work at a hospital.
- B) I go to school in the morning.
- C) I dislike helping people.
- D) I like planting vegetables.

4) A: Are you hungry?

B: I want a sandwich.

- A) Not now, thanks.
- B) Yes, I am.
- C) No, I'm not.
- D) Yes, please.

5) A: Can youpuzzles?

B: No, I can't. I canthe guitar.

- A) do/play
- B) play/speak
- C) take/play
- D) ride/doa

DİN KÜLTÜRÜ VE AHLAK BİLGİSİ TESTİ

1) 1-Rahman ve Rahim olan Allah'ın adıyla 2-Hamd (övme ve övülme) alemlerin Rabb'i olan Allah'adır. 3-O, Rahman ve Rahimdir. 4-Hesap gününün sahibidir. 5-Rabbimiz! Yalnızca sana kulluk eder ve yalnız senden yardım dileriz. 6-Bizleri doğru yola ilet. 7-Kendilerine nimet verdiklerinin yoluna, gazaba uğramışların ve sapmışların yoluna değil. (Fatiha suresi)

Yukarıdaki ayetlerden aşağıdakilerden hangisine ulaşılamaz?

- A) Allah (c.c) alemlerin Rabbi'dir.
- B) Allah hesap gününün sahibidir.
- C)Gazaba uğramışların yolu, doğru yoldur.
- D)Sadece Allah'a kulluk edilir.

2) Kıyafetlerimize bir kir bulaştığında ilk fırsatta onu temizleriz. Tuvaletten çıkınca da kirlendiği için ellerimizi yıkarız. Peki, düşüncelerimizin, sözlerimizin, davranışlarımızın da kirlenebileceğini biliyor muyuz? Nasıl maddi kirlere temizleniyorsak manevi kirlere de temizlenmemiz gerekir.

Aşağıdakilerden hangisi manevi kirlere temizlenme yollarından birisidir?

- A) Banyo yapmak
- B) Çamaşır yıkamak
- C)Tövbe etmek ve özür dilemek
- D)Çevredeki çöpleri çöp kutusuna atmak

3) Akrabalık ilişkileriyle ilgili aşağıda verilenlerden hangisi yanlıştır?

- A) Gerektiğinde maddi yardımda bulunmak.
- B) Akrabalarımızı sadece bayramlarda ziyaret etmek.
- C)Sevinç ve üzüntülerini paylaşmak.
- D)Önemli konularda karar verirken onlara danışmak.

4) “Rabbin, kendisinden başkasına asla ibadet etmemenizi, anaya babaya iyi davranmanızı kesin olarak emretti. Eğer onlardan biri ya da her ikisi senin yanında ihtiyarlık çağına ulaşırsa, sakın onlara ‘öf’ bile deme, onları azarlama, onlara tatlı ve güzel söz söyle.” (İsra suresi 23. Ayet)

Yukarıdaki ayetten aşağıdakilerden hangisi çıkarılamaz?

- A) Allah'tan başkasına ibadet edilmez.
- B) Anne babaya iyi davranmak Allah'ın emridir.
- C)Anne ve babamız yaşlandıklarında onları huzur evlerine vermeliyiz.
- D)Anne ve babamızla konuşurken güzel kelimeler kullanmalıyız

5) Hz. Muhammed (sav)'e Muhammedü'l-Emin denilmesinin sebebi aşağıdakilerden hangisidir?

- A) Konuşurken yalan söylemez, kimseyi aldatmazdı.
- B) İnsanlar arasında zengin fakir ayırımı yapardı.
- C)Kızlarına değer vermezdi.
- D)Putlara tapan insanlara çok değer verirdi.

SULTAN ALPARSLAN İMAM HATİP ORTAOKULU

ÇOCUĞUNUZUN GELECEĞİ BURADA

Din ve Fen ilimlerini buluşturan formülüyle eğitsel başarıyı manevi ve ahlaki yeterliliklerle harmanlamayı amaçladık. Bu çerçevede ülkemizin ihtiyacı olan örnek nesilleri yetiştirmeyi hedef edindik. Hedefe ulaşmak için özveriyle çalışan bir ekip ve iyi bir ortam hazırlamaya çalışıyoruz.

